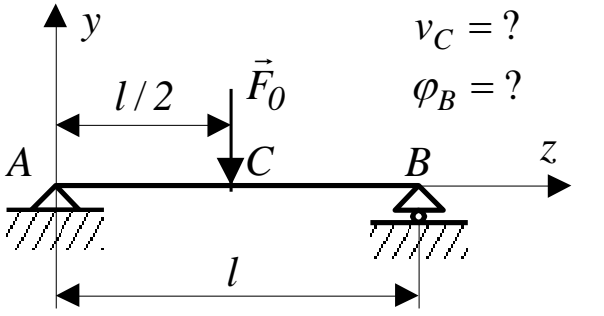
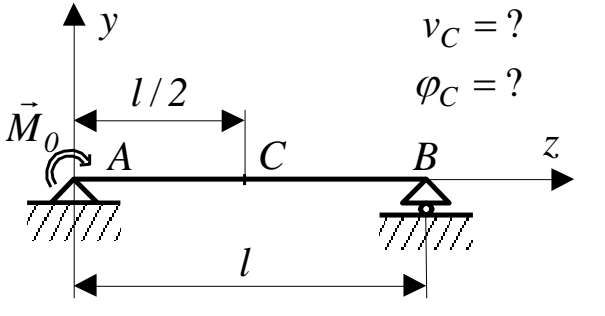
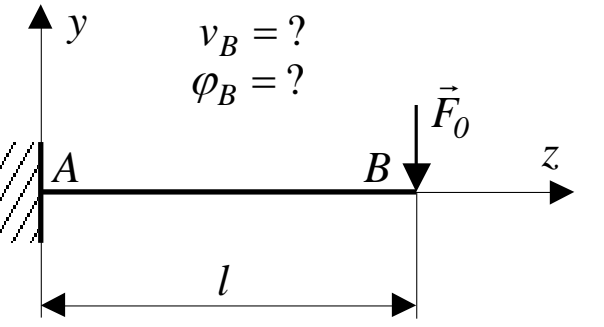
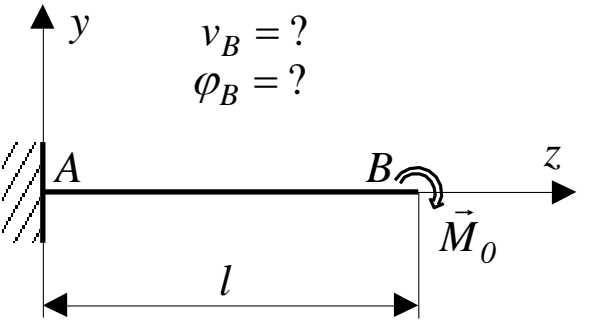
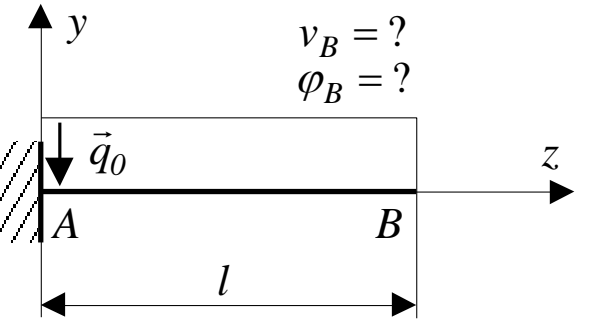
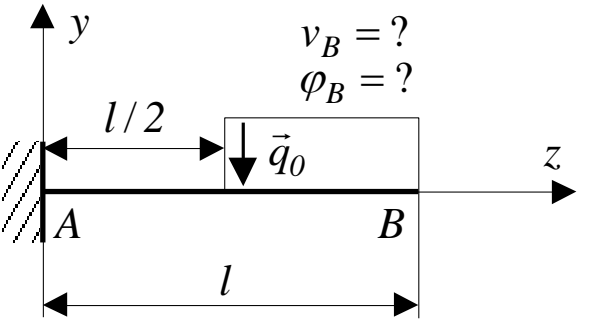


1. feladat

Határozza meg a szilárdságtan valamelyik munkatételével (pontos megoldás) és a Ritz-módszerrel (közelítő megoldás), a közelítő sorban egy, kettő és három tag felvételével a megadott tartószerkezet kijelölt keresztmetszete súlypontjának elmozdulását és a kijelölt keresztmetszet szögelfordulását!

A tartó geometriai és anyagjellemzői, valamint terhelése ismert. A számításoknál csak a hajlításból származó energiát vegye figyelembe!

 <p>$v_C = ?$ $\varphi_B = ?$</p>	 <p>$v_C = ?$ $\varphi_C = ?$</p>
 <p>$v_B = ?$ $\varphi_B = ?$</p>	 <p>$v_B = ?$ $\varphi_B = ?$</p>
 <p>$v_B = ?$ $\varphi_B = ?$</p>	 <p>$v_B = ?$ $\varphi_B = ?$</p>